

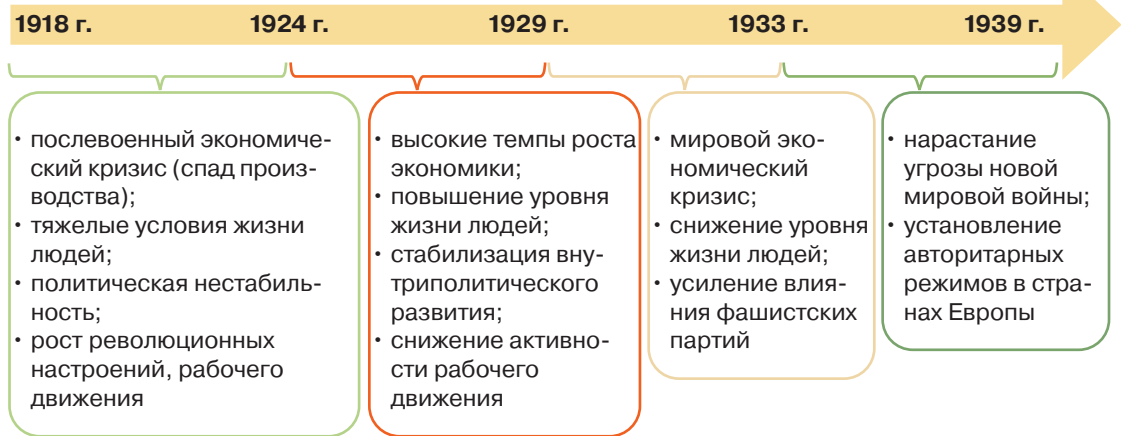


*§ 26-0. Страны Запада в межвоенный период

РЕВОЛЮЦИЯ НАЦИЗМ ФАШИЗМ ВЕЛИКАЯ ДЕПРЕССИЯ НАРОДНЫЙ ФРОНТ ВЕРСАЛЬСКО-ВАШИНГТОНСКАЯ СИСТЕМА МЕЖДУНАРОДНЫХ ОТНОШЕНИЙ ПОЛИТИКА «УМИРОТВОРЕНИЯ АГРЕССОРА»

1. Основные этапы развития стран Запада в межвоенный период. В развитии стран Запада в межвоенный период (1918–1939 гг.) выделяется несколько этапов.

ЭТАПЫ РАЗВИТИЯ СТРАН ЗАПАДА В МЕЖВОЕННЫЙ ПЕРИОД



1. Проанализируйте схему «Этапы развития стран Запада в межвоенный период». Какие тенденции и закономерности в развитии стран можно выделить?
2. Как вы думаете, почему в условиях мирового экономического кризиса (1929–1933 гг.) в Европе усиливается влияние фашистских партий?
3. Почему после мирового экономического кризиса обостряются международные отношения и нарастает угроза новой мировой войны?

2. Изменения на политической карте Европы после Первой мировой войны. Одним из итогов Первой мировой войны стали существенные изменения на политической карте Европы. Ведущая роль в рамках созданной после войны Версальско-Вашингтонской системы международных отношений принадлежала Великобритании и Франции.

ПРОВОДИМ МИНИ-ИССЛЕДОВАНИЕ

Сравните политическую карту Европы до и после Первой мировой войны. Ответьте на вопросы.

1. Назовите государства, которые распались в результате Первой мировой войны.
2. Какие новые государства возникли в Европе после Первой мировой войны?
3. Как изменилась территория Германии после Первой мировой войны?



○ Столицы государств ○ Милан Другие города
 Цифрами на карте обозначены:
 1 – Португалия; 2 – Нидерланды; 3 – Бельгия; 4 – Люксембург; 5 – Швейцария; 6 – Лихтенштейн; 7 – Черногория; 8 – Сербия; 9 – Албания; 10 – Румыния

Цифрами на карте обозначены:
 1 – Португалия; 2 – Нидерланды; 3 – Бельгия;
 4 – Люксембург; 5 – Швейцария; 6 – Лихтенштейн;
 7 – Монако; 8 – Чехословакия; 9 – Эстония;
 10 – Латвия; 11 – Литва; 12 – Венгрия; 13 – Королевство сербов, хорватов и словенцев; 14 – Албания

Европа в 1914 г.

Европа в 1923 г.



3. Послевоенный кризис. Первая мировая война привела к невиданным человеческим жертвам, очень много людей стали инвалидами. Эти обстоятельства значительно уменьшили количество рабочих рук. Для инвалидов, пожилых людей ситуация осложнялась тем, что большинство из них не могли рассчитывать на получение пособий со стороны государства.

Первая мировая война опустошила целые регионы Европы. Была подорвана финансовая стабильность, огромных масштабов достигла инфляция. Особенно в тяжелом положении находилась экономика Германии и других стран, потерпевших поражение в войне. Из-за военных действий сильно пострадала экономика Франции. В то же время США значительно укрепили свою экономическую мощь и превратились в кредитора ряда европейских государств.

В годы войны экономика государств Запада работала прежде всего на обеспечение потребностей фронта. После окончания войны необходимо было переводить предприятия на производство мирной продукции. В связи с этим в первые послевоенные годы западные страны столкнулись с экономическим кризисом, который проявлялся в спаде производства, нарушении производственных связей, банкротстве предприятий, росте безработицы и снижении жизненного уровня населения.

Государства-победители стали выходить из экономического кризиса в 1922 г. Германия преодолела спад производства только в 1924 г.

4. Социальные и политические перемены. После окончания Первой мировой войны страны Запада столкнулись не только с большими экономическими трудностями, но и с социально-политическим кризисом. В ряде государств Европы этот кризис вызвал революции. Наиболее значительной из них была Ноябрьская революция 1918–1919 гг. в Германии,

Последствия Первой мировой войны

Экономика стран Запада в первые послевоенные годы



Банкнота 1923 г.
в 100 миллиардов немецких марок. За несколько дней она обесценилась в тысячу раз

Революционные события в Европе

которая привела к падению монархии и установлению в стране демократической республики. Буржуазно-демократические революции прошли в Австрии (1918 г.), Венгрии (1918 г.).

ПРОВОДИМ МИНИ-ИССЛЕДОВАНИЕ

1. Почему после Первой мировой войны были так популярны социалистические идеи?
2. В каких странах произошли социалистические революции и были провозглашены советские республики?
3. Как вы считаете, почему все советские республики в Европе просуществовали непродолжительное время?

● ОСЛО Столицы государств
 ○ Киль Другие города
 - - - - - Границы государств на 1921 г.
 🚩 Социалистическая революция в России 25.10 (07.11).1917
 🚩 Буржуазно-демократические революции (с указанием дат)
 🇸🇺 Советские республики:
 А Финляндская (27.01–4.05.1918)
 Б Баварская (13.04–1.05.1919)
 В Венгерская (21.03–01.08.1919)
 Г Словацкая (16.04–7.05.1919)
 🇸🇺 Государства Прибалтики, бывшие советскими республиками в 1919–1920 гг.
 Цифрами на карте обозначены:
 1 – Нидерланды;
 2 – Бельгия;
 3 – Люксембург;
 4 – Вольный город Данциг;
 5 – Королевство сербов, хорватов и словенцев



Революционные события в Европе в 1917–1920 гг.

В странах Запада, вышедших победителями из войны, ее последствия для населения были менее катастрофическими. Людей из разных социальных слоев объединяла общая причастность к одержанной победе. Правящие круги Франции и Великобритании провели реформы в интересах простых людей, что снизило противостояние в обществе. Названные обстоятельства позволили большинству стран Запада избежать революций.

В условиях послевоенного кризиса в Европе сформировалось новое политическое течение — фашизм. В 1919 г. в Германии возникла партия, которая с марта 1920 г. получила название Национал-социалистическая рабочая партия Германии (НСДАП). В Италии в том же году образовалась Национальная фашистская партия. Национал-социалисты и фашисты ставили целью захват власти и установление диктатуры своей партии. Парламентская демократия подлежала ликвидации. Ей на смену должно было прийти тоталитарное государство, стремившееся полностью контролировать жизнь общества и каждого человека. Италия стала первой страной, в которой фашисты во главе с Б. Муссолини пришли к власти (октябрь 1922 г.).

Снижение противостояния в обществе

Возникновение фашизма

27–30 октября 1922 г. состоялся «Поход на Рим» — марш боевиков Национальной фашистской партии во главе с Б. Муссолини, предпринятый с целью давления на руководство Италии и захвата власти в стране. Сторонники Б. Муссолини вышли к окрестностям Рима, после чего он был назначен премьер-министром Италии и сформировал первое фашистское правительство.

Итальянский историк Ф. Филиппи так комментирует эти события: «В начале 1920-х гг. Италия переживала высокую инфляцию и безработицу, а противостояние левых и правых напоминало гражданскую войну. Муссолини представлял себя одновременно и солдатом, и миротворцем, и король, в надежде на мир и стабильность, решил доверить ему власть. Так и началась история фашизма».

1. Какие факторы, по мнению Ф. Филиппи, содействовали приходу фашистов к власти в Италии?
2. Какие надежды возлагались на правительство Б. Муссолини? Оправдал ли он их?



Стабилизация экономики

Установите причинно-следственные связи между факторами, указанными в схеме, и ростом экономики в странах Запады в 1920-е гг.

5. Экономический подъем в середине — второй половине 1920-х гг. Период 1924–1929 гг. в странах Запады характеризовался быстрым ростом экономики. Этому способствовал ряд факторов.

Факторы, способствовавшие экономическому росту стран Запады в 1920-е гг.

Отложенный спрос населения

Масштабные восстановительные работы

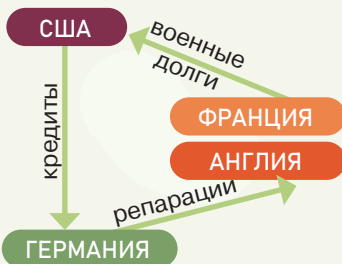
Техническое переоснащение производства

Совершенствование организации производства

Содействовало экономическому росту и возобновление международных экономических связей после окончания войны. В восстановлении французской экономики значительную роль сыграли репарации Германии, а самой Германии — осуществление плана Дауэса.

ПРОВОДИМ МИНИ-ИССЛЕДОВАНИЕ

План Дауэса был утвержден в августе 1924 г. Он установил новый порядок выплаты Германией репараций, наложенных в рамках Версальского договора. Чтобы помочь немецкой экономике, стране одновременно предоставлялся международный заем.



1. Проанализируйте механизм осуществления плана Дауэса.
2. Как вы думаете, почему этот план был выгоден государствам, которые в нем участвовали?
3. Какое государство больше всех выигрывало от реализации данного плана?

В 1929 г. объем производства в мировом масштабе в 1,5 раза превысил довоенный уровень. При этом разные страны имели разные темпы экономического роста. Наиболее значительным он был в США, Германии и Франции. Среди развитых государств низкие темпы роста имела экономика Великобритании.

Во второй половине 1920-х гг. в промышленности на первый план вышли наиболее современные отрасли: автомобилестроение, электротехническая, химическая. Новый технический уровень производства, его массовый характер стала олицетворять автомобильная промышленность.

Генри Форд известен тем, что впервые стал использовать промышленный конвейер для поточного производства автомобилей. Конвейер использовали и до этого, в том числе для массового производства. Однако Г. Форд первым «поставил на конвейер» технически сложную и нуждающуюся в технической поддержке на протяжении всего срока эксплуатации продукцию — автомобиль.

Предприятия Г. Форда являлись образцом научной организации труда. На одном из заводов бригада работников получала деньги за то, что отдыхала. Это была сервисная бригада, которая отвечала за бесперебойную работу конвейера.


1. Как вы думаете, какие перспективы имело внедрение конвейера в производство?
2. Почему Г. Форд платил деньги сотрудникам сервисной бригады только тогда, когда они отдыхали? Как это, на ваш взгляд, сказывалось на качестве их работы?

Вместе с экономическим ростом во второй половине 1920-х гг. в странах Запада происходила и политическая стабилизация. Это проявилось в укреплении парламентской системы. Ее упрочению содействовало увеличение числа избирателей. В Германии и Великобритании избирательное право стало всеобщим, в том числе и для женщин.

Парламентский путь развития активно поддерживали социалистические и социал-демократические

Новые явления в экономике

Почему, на ваш взгляд, экономика Великобритании, которая была самой сильной в первой половине XIX в., в этот период демонстрирует отставание в темпах роста от самых развитых держав мира?



Политическая стабилизация

Объясните причинно-следственную связь между экономической и политической стабилизацией общества.

Как вы думаете, почему в годы стабилизации (1924–1929 гг.) в странах Запада ослабло влияние коммунистических и фашистских партий?

Политика реформизма

партии, за которыми шла основная масса рабочего класса. Эти партии становятся правящими в ряде стран. В середине 1920-х гг. значительно ослабло влияние коммунистических и фашистских партий.

Правительства западных государств провели реформы, в том числе и в интересах рабочего класса, так как понимали, что улучшение условий труда рабочих, расширение их политических прав будут содействовать устойчивости буржуазного общества. Политика реформизма была характерна в первую очередь для государств со стабильной парламентской системой: Великобритании, Франции, скандинавских стран.

Факторы стабилизации западного общества в 1924–1929 гг.

Преодоление экономического кризиса и рост производства

Демократизация политической жизни

Повышение уровня жизни населения

Сокращение числа социальных конфликтов

Снижение напряженности в международных отношениях

Предпосылки мирового экономического кризиса

6. Мировой экономический кризис и его последствия. Экономический рост 1920-х гг. оказался неустойчивым. Главная причина этого заключалась в том, что формирование массового производства не сопровождалось формированием соответствующего спроса на товары. Зарплата и доходы основной массы населения не росли такими темпами, которые позволили бы раскупать огромное количество производимой продукции. В результате образовался большой избыток товаров. Это вело к падению цен и делало неизбежным сокращение производства.

Началом мирового экономического кризиса стало обвальное падение курса ценных бумаг на Нью-

Великая депрессия

Йоркской фондовой бирже 24 октября 1929 г. Этот кризис не имел равных в истории по продолжительности и масштабам и получил название *Великая депрессия*. Кризис затянулся до 1933 г., а в отдельных странах — до 1935 г.

Экономические показатели стран Запада в 1929–1930 гг.				
	США	Великобритания	Франция	Германия
Спад промышленного производства	50%	25%	44%	50%
Снижение внешней торговли	70%	60%	54%	61%
Безработица	32%	22%	11%	44%

1. Проанализируйте экономические показатели стран Запада. Какие из них свидетельствуют о кризисных явлениях?
2. Какие страны больше всего пострадали от кризиса? Как вы думаете, чем это обусловлено?

Кризис 1929–1933 гг. оказался настолько глубоким, что выход из него через рыночное снижение цен оказался невозможным. Крупные корпорации удерживали цены на высоком уровне. В результате не раскупались излишки товаров. Это вынудило правительства активно прибегать к государственному регулированию экономики и социальных отношений.


В политической сфере результатом кризиса стало массовое разочарование людей в парламентской демократии. Возросло влияние радикальных политических сил, стремившихся к уничтожению парламентской системы. В ряде стран реальной стала фашистская угроза. В Германии в 1933 г. к власти пришла НСДАП. Коммунистические партии рассматривали Великую депрессию как начало краха мирового капитализма. Однако курс компартий на осуществление

Формирование системы государственного регулирования экономики

Изменения в политической сфере

РАБОТАЕМ С ИСТОРИЧЕСКИМ ИСТОЧНИКОМ

Из выступления Ф. Д. Рузвельта во время избирательной кампании 1932 г.



Ф. Д. Рузвельт

«Недавно было проведено тщательное обследование концентрации бизнеса в США. Выяснилось, что над нашей экономической жизнью господствуют шестьсот с небольшим корпораций, контролирующих две трети американской промышленности. Оставшаяся треть принадлежит десяти миллионам мелких бизнесменов. Еще более важно то, что, если этот процесс будет развиваться теми же темпами, к концу нынешнего столетия нами будет править, вероятно, сотня человек.

Свобода отдельных лиц заниматься своим бизнесом не должна отменяться, если не затрагиваются более широкие интересы многих. Цель правительства — следить за тем, чтобы не только защищались законные интересы немногих, но и чтобы благополучие и права многих были сохранены. Насколько я понимаю, это разумное управление, а не политика».

1. Какую опасность для экономики США видел Ф. Д. Рузвельт?
2. В чем, по его мнению, состоит роль государства в экономических отношениях?
3. Вспомните, какое название получила экономическая политика, проводимая Ф. Д. Рузвельтом. Оказался ли он прав, отстаивая свою позицию?

социалистической революции не получил поддержки у рабочих. Основная масса рабочих поддерживала социал-демократов, которые стояли на позициях защиты парламентской демократии.

Большинство ведущих западных государств вышли из кризиса, сохранив парламентскую систему. Во многом это было связано с тем, что они стали на путь государственного регулирования экономики и социальной жизни. Были проведены реформы, направленные на улучшение жизни людей. Значительно увеличилось число тех, кто получал пособия по безработице, развивалась система социального стра-

Изменения в социальной сфере

Вспомните, что такое Народный фронт. В каких еще странах Европы были подобные явления?

хования по старости, болезни. Распространенным явлением стали оплачиваемые отпуска. Во Франции большую роль в ликвидации угрозы прихода фашистов к власти сыграл Народный фронт.

ПРОВОДИМ МИНИ-ИССЛЕДОВАНИЕ

Придя к власти во Франции, Народный фронт начал широкомасштабную программу реформ. Так, 20 июня 1936 г. был принят закон, устанавливающий ежегодный оплачиваемый отпуск. 27 июня 1936 г. был принят закон, устанавливающий 40-часовую рабочую неделю на промышленных, торговых и ремесленных предприятиях. В 1937 г. была проведена налоговая реформа, в соответствии с которой вводился налог для мелких предприятий в размере 2% с оборота, а для крупных — 6%. Были увеличены налоги на большие наследства и доходы, в том числе на прибыль акционерных компаний.

Среди других реформ, проведенных по инициативе Народного фронта, были:

- введение обязательных коллективных трудовых договоров;
- внедрение программы основных общественных работ;
- частичная национализация военной промышленности и полная национализация железных дорог.

1. Когда и как Народный фронт пришел к власти во Франции? Какие политические партии входили в состав Народного фронта?
2. В интересах каких слоев населения проводились указанные реформы?
3. Какие слои населения были недовольны политикой Народного фронта?
4. Какие решения правительства Народного фронта ликвидировали угрозу прихода фашистов к власти во Франции?

Великая депрессия привела к кризису Версальско-Вашингтонской системы международных отношений. Экономический кризис обострил противоречия между ведущими государствами мира. Стабильность международных отношений, достигнутая в середине 1920-х гг., была нарушена. Установившиеся под влиянием кризиса в ряде стран фашистские и милитаристские режимы взяли курс на передел мира в своих интересах с помощью силы. Это открывало путь ко Второй мировой войне.

Кризис Версальско-Вашингтонской системы международных отношений



Межвоенный период характеризовался неравномерным развитием стран Запада: кризисы сменялись временами экономического роста. С развитием экономики были связаны политическое развитие, активность рабочего движения, влияние политических партий. Мировой экономической кризис 1929–1933 гг. обострил противоречия между государствами, привел к нарастанию угрозы новой мировой войны.

когда в мире...

1929 г. — начало мирового экономического кризиса

на территории Беларуси...

1928 г. — введение государственного планирования развития хозяйства по пятилеткам. Начало первой пятилетки

ВОПРОСЫ И ЗАДАНИЯ

1. Охарактеризуйте основные этапы развития стран Запада в межвоенный период. Дайте краткую характеристику каждому из них. Конкретизируйте фактами вывод о взаимосвязи социально-экономического и политического развития западного общества в этот период.
2. Приведите примеры революционного и эволюционного развития стран Запада в межвоенный период. Выделите предпосылки эволюционной и революционной моделей развития западных стран в 1918–1939 гг.
3. В чем проявилась неравномерность экономического развития стран Запада в межвоенный период? Выделите страны, экономическое развитие которых было наиболее успешным. Какие факторы на это повлияли?
4. В чем заключались причины мирового экономического кризиса 1929–1933 гг.? Чем он отличался от других экономических кризисов? Какие государства наиболее пострадали от кризиса? Как вы думаете, повлиял ли он на экономику СССР? Свое мнение объясните.
5. Определите политические, экономические и социальные последствия мирового экономического кризиса.

